

7.
sınıf

TÜRKİYE GENELİ KURUMSAL DENEME SINAVI

4. SINAV

SÖZEL BÖLÜM

Adı Soyadı:
Okulu:
Sınıfı / Şubesi:
Numarası:

Dersler	Soru Sayısı	Toplam Soru Sayısı	Sınav Süresi (Dakika)
TÜRKÇE	20	50	75
SOSYAL BİLGİLER	10		
DİN KÜLTÜRÜ VE AHLAK BİLGİSİ	10		
İNGİLİZCE	10		

AltınNokta



TÜRKÇE

SINAVLA ÖĞRENCİ ALACAK ORTAÖĞRETİM KURUMLARINA İLİŞKİN DENEME SINAVI

A

Bu testte 20 soru vardır.

Cevaplarınızı, cevap kâğıdına işaretleyiniz.

1. İyi bir kitap cevap vermek yerine soru sormayı öğretir. Soru sormak yorar, konfor bozar ama insana hiç beklemediği yerlerden pencereler de açar yahut dara düştüğünde kendi çıplak elleriyle duvarda pencere açmayı öğretir.

Bu metindeki “pencere açmak” sözcük grubunu anlamca karşılayabilecek bir kullanım aşağıdakilerin hangisinde vardır?

- A) İnsanlar bir araya gelmiş, anılarından söz ediyorlardı.
B) Yazmak; yemek, içmek, uyumak gibi bir ihtiyaçtır.
C) Salgın nedeniyle futbolda yeni kurallar hayata geçiriliyor.
D) Bir insana bir şeyler öğretmek, o insana yeni bakış açıları kazandırmak demektir.

2023

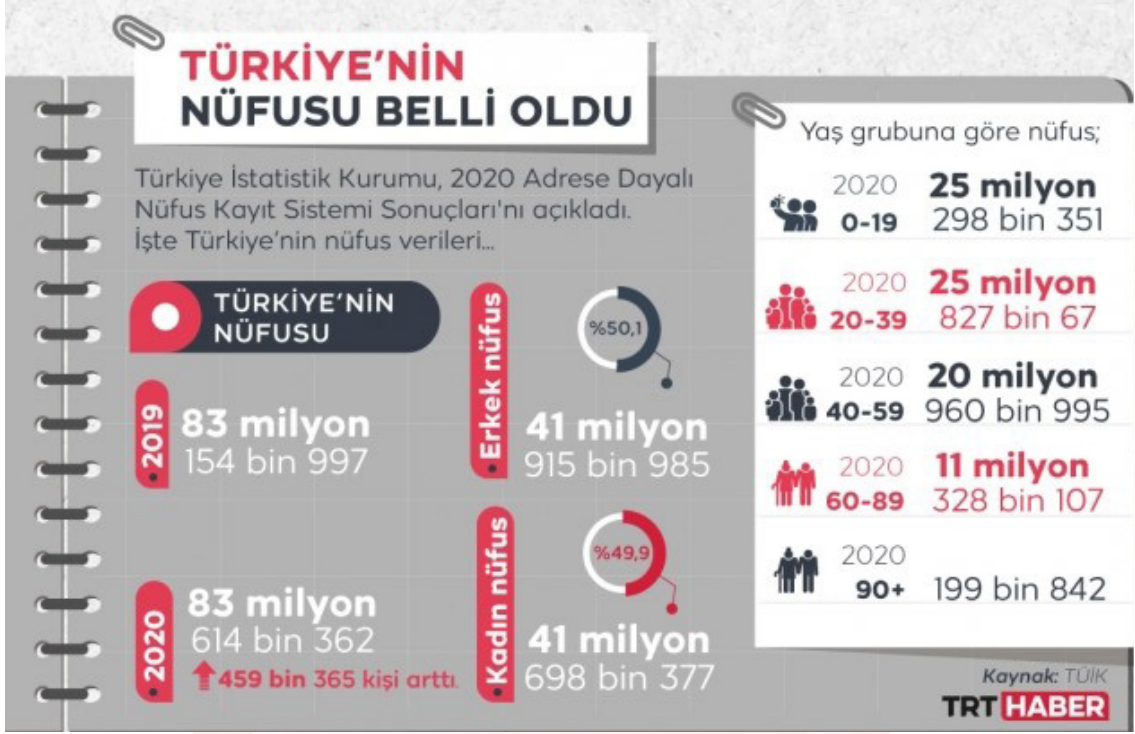
SOSYAL BİLGİLER

SINAVLA ÖĞRENCİ ALACAK ORTAÖĞRETİM KURUMLARINA İLİŞKİN DENEME SINAVI

A

Bu testte 10 soru vardır.
Cevaplarınızı, cevap kâğıdına işaretleyiniz.

1.



Yukarıdaki verilere bakıldığında;

- Türkiye'nin nüfusu bir önceki yıla göre artış göstermiştir.
- Son dönemde ülkedeki nüfus artış hızında düşüş eğilimi hakim olmuştur.
- Nüfusun içindeki en yüksek oran 20-39 yaş aralığında ortaya çıkmıştır.

Çıkarımlarından hangileri yapılabilir?

- A) I ve II B) I ve III C) II ve III D) I, II ve III

DİN KÜLTÜRÜ VE AHLAK BİLGİSİ

SINAVLA ÖĞRENCİ ALACAK ORTAÖĞRETİM KURUMLARINA İLİŞKİN DENEME SINAVI

A

Bu testte 10 soru vardır.
Cevaplarınızı, cevap kâğıdına işaretleyiniz.

1.

T.C. Cumhurbaşkanlığı
Diyamet İşleri Başkanlığı
Hac ve Umre Hizmetleri Genel Müdürlüğü



Diyamet İşleri Başkanlığı, 2021 yılı hac ibadetiyle ilgili açıklama yaptı: 2020 yılı hac ibadeti Covid-19 salgını nedeniyle yapılamadığı için hac adaylarının kura ve kayıt hakları 2021 yılı için de devam etmektedir. Suudi Arabistan Hac ve Umre Bakanlığı ile 2021 yılı hac ibadetine ilişkin görüşmeler sürmektedir. Görüşmeler neticesinde alınacak kararlar kamuoyu ile paylaşılacaktır. Kamuoyuna saygıyla duyurulur.

Hac ibadetinin bir kişiye farz olabilmesi için bazı şartları taşıması gerekmektedir.

Buna göre yukarıdaki haber metninde aşağıdaki şartlardan hangisine vurgu yapılmaktadır?

- A) Kişinin, hacca gidip gelinceye kadar kendisinin ve ailesinin giderlerini karşılayabilecek ekonomik gücü olmalıdır.
- B) Hacca gidecek kişinin yol güvenliğinin bulunması gerekir. Yolda savaş, bulaşıcı hastalık gibi birtakım engeller varsa bu durumda hac ibadeti kişiye farz olmaz.
- C) Hacca gidecek kişinin, bu ibadeti yerine getirebilecek kadar vakti bulunmalıdır.
- D) Akıl sağlığı yerinde olmayanlar ve ergenlik çağına ulaşmamış çocuklar hacca gitmekle yükümlü değildirler.

4. SORU

İNGİLİZCE

SINAVLA ÖĞRENCİ ALACAK ORTAÖĞRETİM KURUMLARINA İLİŞKİN DENEME SINAVI

A

Bu testte 10 soru vardır.

Cevaplarınızı, cevap kâğıdına işaretleyiniz.

1. Last Monday, Mrs. Granger had a very busy day.


- She went to _____ because she wanted to have a sandwich, but there wasn't any bread left.
- She went to _____ because she met her friend and drank some coffee.
- She went to _____ because she lost some money at the café and wanted to report it.
- She went to _____ to walk her dog because it was bored when Mrs. Granger wasn't at home.

Which of the following places did NOT Mrs. Granger go last Monday?

A)



B)



C)



D)



2021 TEST

SINAVA EKSİKSİZ HAZIRLANABİLMEK İÇİN ÇÖZMENİZ GEREKEN KİTAPLAR

1. DÖNEM TEKRARI UNUTTUKLARIMIZI HATIRLAYALIM



SINAV KAZANDIRAN MOTİVASYON SERİSİ



SİZİ BİR ADIM ÖNE TAŞIYACAK KİTAPLAR



500 TAM PUAN İÇİN STRATEJİK KİTAPLAR



BİRE BİR SINAV DENEYİMİ YENİ BASKI MAYIS 2021



7.
sınıf

TÜRKİYE GENELİ KURUMSAL DENEME SINAVI

4. SINAV

SAYISAL BÖLÜM

Adı Soyadı:
Okulu:
Sınıfı / Şubesi:
Numarası:

Dersler	Soru Sayısı	Toplam Soru Sayısı	Sınav Süresi (Dakika)
MATEMATİK	20	40	80
FEN BİLİMLERİ	20		

AltınNokta



MATEMATİK

SINAVLA ÖĞRENCİ ALACAK ORTAÖĞRETİM KURUMLARINA İLİŞKİN DENEME SINAVI

A

Bu testte 20 soru vardır.
Cevaplarınızı, cevap kâğıdına işaretleyiniz.

1. Ahmet 2015 yılında diktiği bir fidanın boyunu 2016, 2017, 2018 ve 2019 yıllarının belirli dönemlerinde ölçmüş ve elde ettiği verileri not almıştır.



2016	2017	2018	2019
▲ cm	■ cm	● cm	▼ cm

Tablo: Ahmet'in Not Aldığı Veriler

Ahmet'in diktiği fidanın boyu her yıl bir öncekine göre daha uzun olduğuna göre ▲, ■, ● ve ▼ değerleri aşağıdakilerden hangisi olabilir?

	▲	■	●	▼
A)	30,5	$\frac{63}{2}$	$30\frac{4}{5}$	$\frac{151}{5}$
B)	$\frac{63}{2}$	$30\frac{4}{5}$	30,5	$\frac{151}{5}$
C)	$\frac{151}{5}$	30,5	$30\frac{4}{5}$	$\frac{63}{2}$
D)	$30\frac{4}{5}$	30,5	$\frac{151}{5}$	$\frac{63}{2}$

FEN BİLİMLERİ

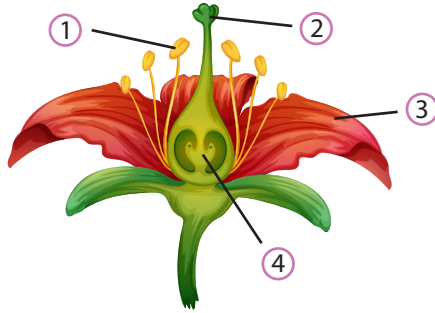
SINAVLA ÖĞRENCİ ALACAK ORTAÖĞRETİM KURUMLARINA İLİŞKİN DENEME SINAVI

A


Bu testte 20 soru vardır.
Cevaplarınızı, cevap kâğıdına işaretleyiniz.

1. Eşeyli üreme hem bitkilerde hem de hayvanlarda görülebilir. Erkek üreme hücresi bitkilerde erkek organ tarafından oluşturulur ve buna polen adı verilir. Dişi üreme hücresi ise dişi organda oluşturulan yumurtadır. Bitkilerde polen ve yumurtanın döllenme yoluyla birleşmesi sonucu yeni birey meydana gelir.

Aşağıda Şekil 1'de çiçekli bitkilerde üremeyi sağlayan yapı ve organlar, şekil 2'de de üreme aşamasında görülen bir olayın görseli verilmiştir.



Şekil 1



Şekil 2

Buna göre numaralandırılarak verilen bu yapılar ve gerçekleşen olayla ilgili olarak aşağıdaki ifadelerden hangisi yanlıştır?

- A) Şekil 2'deki olay 1 numaralı yapıdaki polenlerin 2 numaralı yapıya taşındığı tozlaşma olayıdır.
B) Böcekleri güzel kokusu ile çiçeğin üzerine çeken 3 numaralı yapı çanak yapraklardır.
C) Böceklerle 2 numaralı kısma gelen polenlerin 4 numaralı kısımdaki yumurta hücresi ile birleşmesine döllenme denir.
D) Şekil 2'deki olay böceklerin dışında su, rüzgâr, kuş ve insanlar aracılığı ile de gerçekleşebilir.

3
MARTEST